



SERVIÇO PÚBLICO DO ESTADO DE MINAS GERAIS
Superintendência Regional de Ensino de Leopoldina – Diretoria Educacional
AVALIAÇÃO DIAGNÓSTICA

MATEMÁTICA – 3º ANO

Escola: _____

Aluno: _____

1 - LEIA E RESPONDA À QUESTÃO. LIGUE CORRETAMENTE:

1) Ligue corretamente:

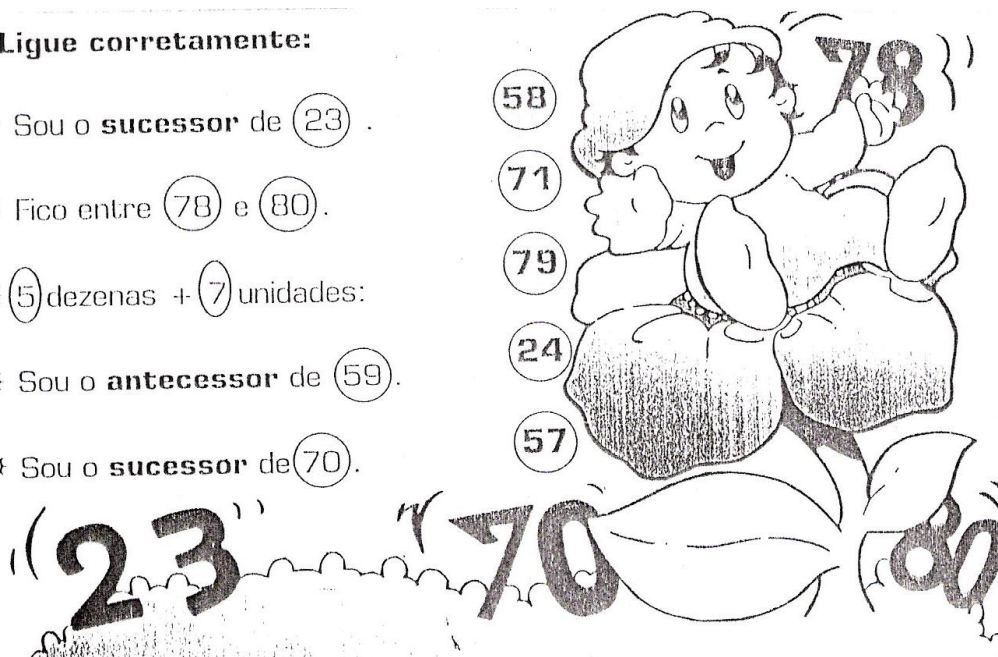
☼ Sou o **sucessor** de (23) .

☼ Fico entre (78) e (80) .

☼ (5) dezenas + (7) unidades:

☼ Sou o **antecessor** de (59) .

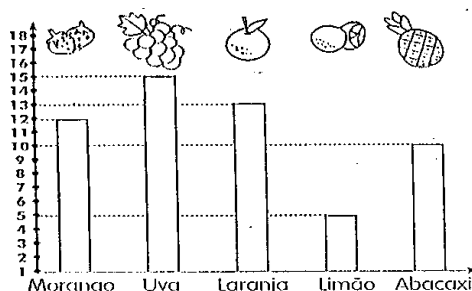
☼ Sou o **sucessor** de (70) .



2 – LEIA COM ATENÇÃO

OBSERVE O GRÁFICO ABAIXO E RESPONDA:

JÚLIA FEZ UMA PESQUISA COM SEUS COLEGAS PARA DESCOBRIR O SABOR DE GELATINA DE QUE ELES MAIS GOSTAVAM. ELA COLOCOU O RESULTADO NO GRÁFICO.



O SABOR DE FELATINA PREFERIDO PELA MAIORIA DOS ALUNOS É DE:

A) LARANJA

B) UVA

C) MORANGO

D) LIMÃO

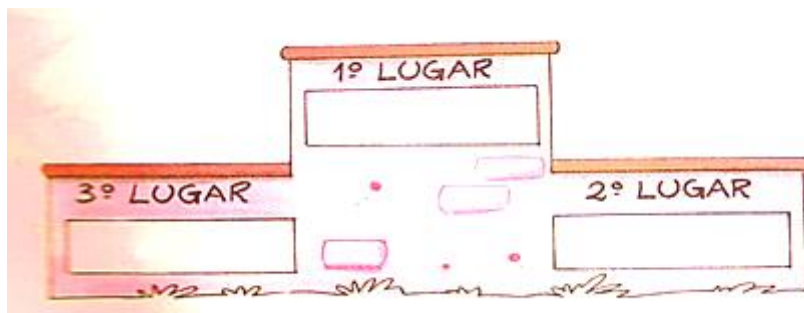


SERVIÇO PÚBLICO DO ESTADO DE MINAS GERAIS
Superintendência Regional de Ensino de Leopoldina – Diretoria Educacional
AVALIAÇÃO DIAGNÓSTICA

3 - LEIA COM ATENÇÃO!

OBSERVE O NÚMERO DE PONTOS FEITOS POR CADA COMPETIDOR E RESPONDA.


EM UMA GINCANA ESPORTIVA, O RESULTADO FINAL FOI O SEGUINTE:



QUAL COMPETIDOR OCUPARÁ O 1º LUGAR?

- A) MARCELO B) ANDRÉ C) TIAGO

4 - OBSERVE O DESENHO E RESPONDA À QUESTÃO.



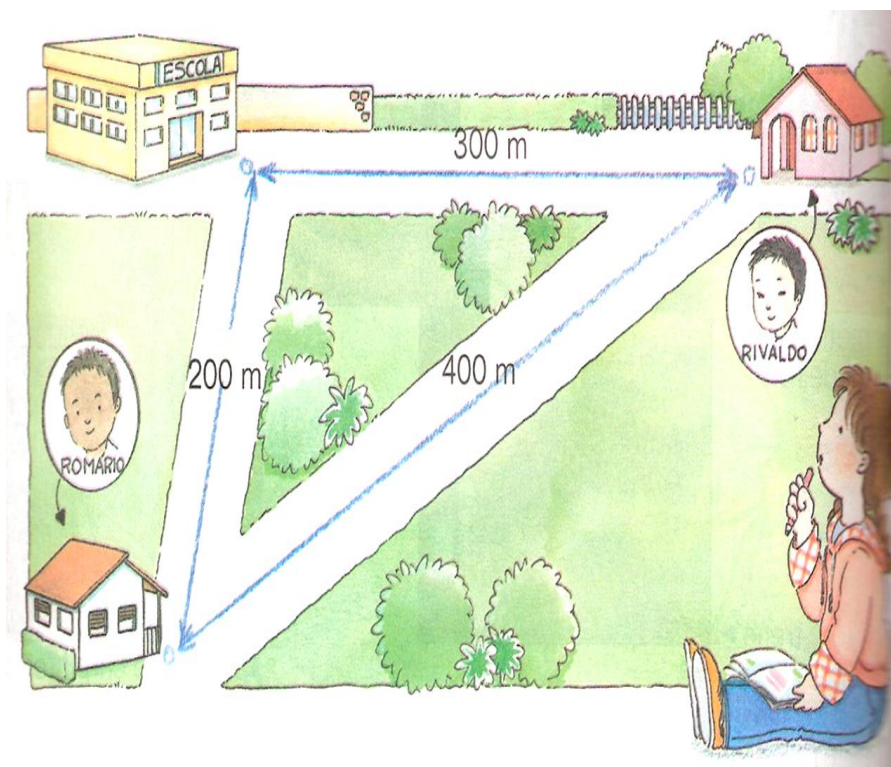
O PESO DA CAIXA QUE O GAROTO ESTÁ SEGURANDO É DE

- A) 65Kg B) 35Kg C) 30Kg D) LIMÃO



SERVIÇO PÚBLICO DO ESTADO DE MINAS GERAIS
Superintendência Regional de Ensino de Leopoldina – Diretoria Educacional
AVALIAÇÃO DIAGNÓSTICA

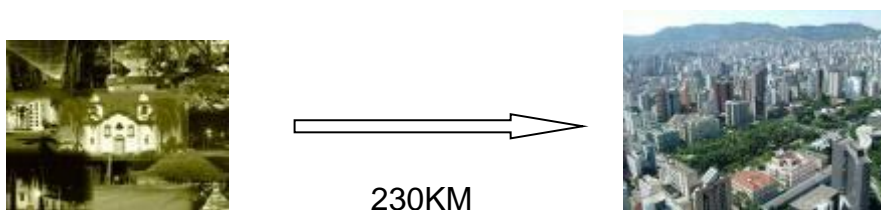
5 - OBSERVE O DESENHO E RESPONDA À QUESTÃO.



SE ROMÁRIO PASSAR PELA CASA DE RIVALDO PARA IREM JUNTOS À ESCOLA, ELE ANDARÁ:

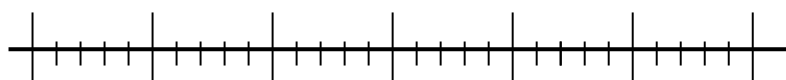
- A) 700 M B) 300 M C) 200 M D) 40 M

6 - OBSERVE AS FIGURAS E RESPONDA À QUESTÃO.
GABRIEL SAIU DE CAMPO BELO PARA FAZER UM PASSEIO A BELO HORIZONTE.



IDENTIFIQUE NA RETA NUMÉRICA O INTERVALO ONDE SE LOCALIZA A CIDADE DE BELO HORIZONTE.

CAMPO BELO 50KM 100KM 150KM 200KM 250KM 300KM





SERVIÇO PÚBLICO DO ESTADO DE MINAS GERAIS
Superintendência Regional de Ensino de Leopoldina – Diretoria Educacional
AVALIAÇÃO DIAGNÓSTICA

7 - FIQUE ATENTO!
ASSOCIE CADA OBJETO À FORMA GEOMÉTRICA ESPACIAL QUE ELE LEMBRA.



8 - NA CARTEIRA DO PAPAI TEM TODAS AS CÉLULAS E MOEDAS DA FIGURA ABAIXO:



ELE FOI À SORVETERIA E GASTOU TODAS ESTAS CÉDULAS E MOEDAS. QUANTO PAPAI GASTOU NA SORVETERIA?
ASSINALE COM UM X O QUADRINHO COM A RESPOSTA CERTA:

- A) OITO REAIS B) NOVE REAIS
C) REAIS E CINQUENTA CENTAVOS. D) ONZE REAIS E CINQUENTA CENTAVOS



SERVIÇO PÚBLICO DO ESTADO DE MINAS GERAIS
Superintendência Regional de Ensino de Leopoldina – Diretoria Educacional
AVALIAÇÃO DIAGNÓSTICA

9 - LEIA E RESPONDA À QUESTÃO.

ANDRÉ, PRISCILA, BRUNO E JULIANA GOSTAM DE BRINCAR COM BOLINHAS DE GUDE. NO INÍCIO DO JOGO, ELES CONTAM AS BOLINHAS DE CADA UM E VOLTAM A CONTÁ-LAS NO FINAL DO JOGO, ANOTANDO OS NÚMEROS EM UMA TABELA. VEJA:

CRIANÇAS	COMEÇARAM O JOGO COM	TERMINARAM O JOGO COM
ANDRÉ	33	45
PRISCILA	26	32
BRUNO	35	20
JULIANA	30	28

AO TERMINAR O JOGO, QUANTAS BOLINHAS DE GUDE ANDRÉ E PRISCILA CONSEGUIRAM JUNTOS?

A) 137

B) 79

C) 78

D) 14

10 - OBSERVE O CALENDÁRIO DO MÊS DE JUNHO DE 2014.






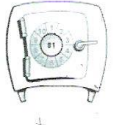





NO DIA 12 DE JUNHO ACONTECERÁ O 1º JOGO DA SELEÇÃO BRASILEIRA DE FUTEBOL NA COPA DO MUNDO. EM QUE DIA DA SEMANA SERÁ O JOGO?

COLOQUE SUA RESPOSTA NO QUADRO ABAIXO:



SERVIÇO PÚBLICO DO ESTADO DE MINAS GERAIS
Superintendência Regional de Ensino de Leopoldina – Diretoria Educacional
AVALIAÇÃO DIAGNÓSTICA

11 - A TABELA MOSTRA OS PRÊMIOS QUE AINDA PODEM SER ESCOLHIDOS NO JOGO DE BINGO. ANDRÉ ESCOLHEU OS QUE TÊM AS SEGUINTE LOCALIZAÇÕES: **C5** E **D2**

	1	2	3	4	5	6	7
A							
B							
C							
D							

ASSINALE COM UM **X** A OPÇÃO QUE MOSTRA OS PRÊMIOS ESCOLHIDOS POR ANDRÉ:

A) BICICLETA E BOLA

C) BOLA E DADO

B) BICICLETA E CALCULADORA

D) CALCULADORA E CARRINHO