




**SERVIÇO PÚBLICO DO ESTADO DE MINAS GERAIS**  
*Superintendência Regional de Ensino de Leopoldina – Diretoria Educacional*  
**AVALIAÇÃO DIAGNÓSTICA**

**MATEMÁTICA – 3º ANO**

Escola: \_\_\_\_\_

Aluno: \_\_\_\_\_

1 - EM CADA VAGÃO, ESCREVA OS NÚMEROS DITADOS PELA PROFESSORA:



2 - UMA PADARIA FEZ **530** PÃES. JÁ FORAM VENDIDOS **218**. QUANTOS PÃES AINDA RESTAM?

3 - UM CAMINHÃO PODE CARREGAR 50 CAIXAS. QUANTAS CAIXAS PODEM CARREGAR 3 CAMINHÕES?

CÁLCULOS:	RESPOSTA:

CÁLCULOS:	RESPOSTA:

4 - ARME E EFETUE COM MUITA ATENÇÃO:

a) $230 + 108 + 24 =$ _____	b) $681 + 219 =$ _____	c) $370 - 162 =$ _____	d) $600 - 157 =$ _____
e) $51 \times 2 =$ _____	f) $32 \times 4 =$ _____	g) $30 \div 5 =$ _____	h) $24 \div 3 =$ _____



**SERVIÇO PÚBLICO DO ESTADO DE MINAS GERAIS**  
*Superintendência Regional de Ensino de Leopoldina – Diretoria Educacional*  
**AVALIAÇÃO DIAGNÓSTICA**

5 - OBSERVE A TABELA E RESPONDA AS PERGUNTAS:

ENFEITES DE NATAL	QUANTIDADE
BOLAS	36
GUIRLANDAS	18
PISCA - PISCA	25

A) QUAL ENFEITE TEM EM MAIOR QUANTIDADE?

\_\_\_\_\_

B) QUAL TEM EM MENOR QUANTIDADE?

\_\_\_\_\_

C) QUANTAS BOLAS EXISTEM A MAIS QUE GUIRLANDAS?

\_\_\_\_\_

6 - ESCREVA COMO SE LÊ OS NÚMEROS ABAIXO:

360 → \_\_\_\_\_

107 → \_\_\_\_\_

98 → \_\_\_\_\_

800 → \_\_\_\_\_

7 - OBSERVE O CALENDÁRIO DE DEZEMBRO E RESPONDA:

<b>DEZEMBRO</b>						
D	S	T	Q	Q	S	S
		1	2	3	4	5
6	7	8	9	10	11	12
13	14	15	16	17	18	19
20	21	22	23	24	25	26
27	28	29	30	31		
<b>25 - Natal</b>						

A) EM QUE DIA DA SEMANA COMEÇARÁ O MÊS?

\_\_\_\_\_

B) EM QUE DIA DA SEMANA TERMINARÁ O MÊS?

\_\_\_\_\_

C) DIA 25 DE DEZEMBRO SERÁ O NATAL. EM QUE DIA DA SEMANA ACONTECERÁ O NATAL?

\_\_\_\_\_



**SERVIÇO PÚBLICO DO ESTADO DE MINAS GERAIS**  
*Superintendência Regional de Ensino de Leopoldina – Diretoria Educacional*  
**AVALIAÇÃO DIAGNÓSTICA**

8 - ACRESCENTE O 6 E FORME O MAIOR NÚMERO POSSÍVEL:

A) 31 = \_\_\_\_ \_\_\_\_ \_\_\_\_

C) 98 = \_\_\_\_ \_\_\_\_ \_\_\_\_

B) 72 = \_\_\_\_ \_\_\_\_ \_\_\_\_

D) 3 = \_\_\_\_ \_\_\_\_

9) QUANTO EU TENHO?



= \_\_\_\_\_



= \_\_\_\_\_



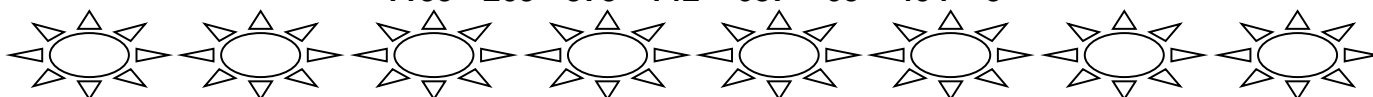
= \_\_\_\_\_



= \_\_\_\_\_

10) COLOQUE OS NÚMEROS DO MENOR PARA O MAIOR:

**1199 - 209 - 575 - 142 - 687 - 65 - 404 - 9**



11) COMPLETE AS SEQUÊNCIAS:

a) 105 - 104 - 103 - 102 - \_\_\_\_ - \_\_\_\_ - \_\_\_\_ - \_\_\_\_

b) 5 - 10 - 15 - \_\_\_\_ - \_\_\_\_ - \_\_\_\_ - \_\_\_\_


c) 90 - 80 - 70 - 60 - \_\_\_\_ - \_\_\_\_ - \_\_\_\_ - \_\_\_\_

d) 34 - 38 - 42 - 46 - \_\_\_\_ - \_\_\_\_ - \_\_\_\_ - \_\_\_\_

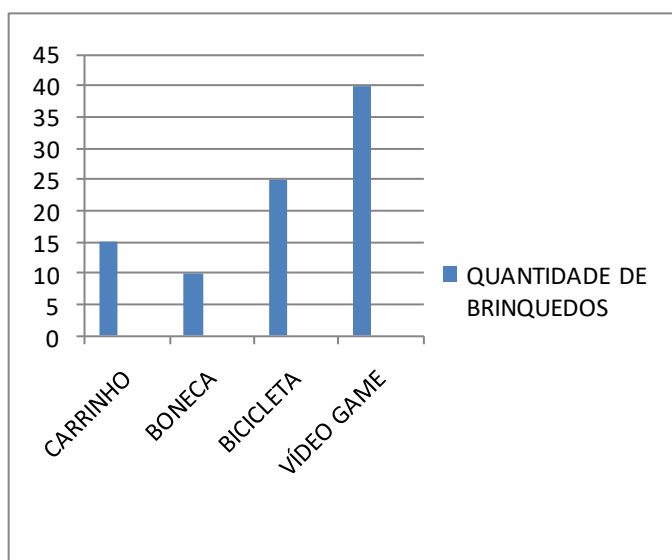


**SERVIÇO PÚBLICO DO ESTADO DE MINAS GERAIS**  
*Superintendência Regional de Ensino de Leopoldina – Diretoria Educacional*  
**AVALIAÇÃO DIAGNÓSTICA**

**12) DESENHE DENTRO DO MOEDEIRO AS MOEDAS QUE VOCÊ USARIA PARA TROCAR:**



**13) OS ALUNOS DA 2ª SÉRIE FALARAM QUAIS BRINQUEDOS GOSTARIAM DE GANHAR NO NATAL. VEJA O RESULTADO NO GRÁFICO ABAIXO E RESPONDA:**



**a) QUAL É O BRINQUEDO PREFERIDO?**

\_\_\_\_\_

**b) QUAL O BRINQUEDO MENOS VOTADO?**

\_\_\_\_\_

**c) QUANTOS ALUNOS PREFEREM BICICLETA E CARRINHO JUNTOS?**

\_\_\_\_\_

**d) QUAL A QUANTIDADE TOTAL DE BRINQUEDOS VOTADOS?**

\_\_\_\_\_

**14) MARCOS TEM 15 CARDS DO NARUTO E QUER DIVIDIR IGUALMENTE PARA SEUS 3 AMIGOS. QUANTOS CARDS CADA UM RECEBERÁ?**

CÁLCULOS:	RESPOSTA:

**15) DONA GABRIELA COMEÇOU A ARRUMAR A SUA ÁRVORE DE NATAL E NOTOU QUE ALGUMAS BOLAS DE ENFEITE HAVIAM QUEBRADO. ELA COMPROU 8 BOLAS DE ENFEITE NOVAS. CALCULE QUANTO ELA GASTOU SABENDO QUE CADA BOLINHA CUSTOU 50 CENTAVOS.**

CÁLCULOS:	RESPOSTA: