

SIMULADO DE MATEMÁTICA – 2º ANO – 2019.1


Baseado na Matriz de Referência do MAISPAIC

ESCOLA: _____	DATA: ___/___/___
NOME DO(A) ALUNO(A): _____	
TURMA: _____	TURNO: () MANHÃ () TARDE

QUESTÃO 1

D4

OBSERVE A SEQUÊNCIA NUMÉRICA ABAIXO.




QUAIS NÚMEROS COMPLETAM A SEQUÊNCIA?

- A 3, 4, 5 e 6
- B 3, 7, 8 e 9
- C 3, 4, 7 e 8
- D 2, 3, 4 e 6

QUESTÃO 2**D6**

JULIANA FOI AO MERCADO COMPRAR UMA DEZENA DE BANANAS.




QUANTAS BANANAS JULIANA COMPROU?

- A 6 BANANAS
- B 7 BANANAS
- C 8 BANANAS
- D 10 BANANAS

QUESTÃO 3**D17**

OBSERVE AS CRIANÇAS NA FILA.

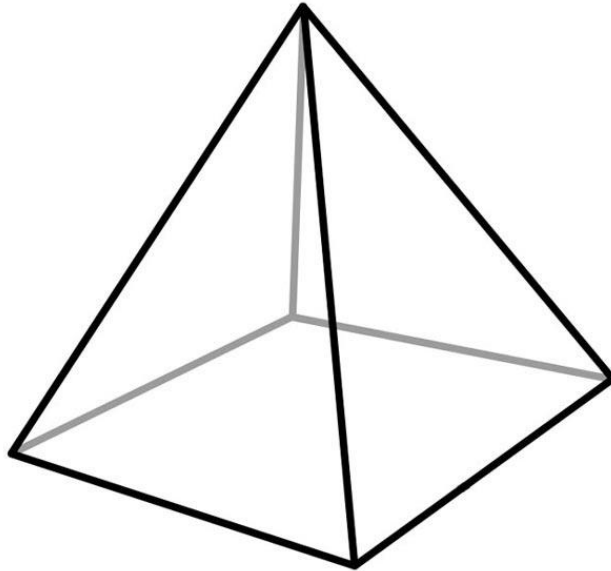


QUEM ESTÁ ATRÁS DE IGOR?

- A HUGO
- B KÁTIA
- C LUCAS
- D CAROL

QUESTÃO 4**D18**

OBSERVE A FIGURA.



QUAL O NOME DESSA FIGURA?

- A CUBO
- B ESFERA
- C PIRÂMIDE
- D PARALELEPIPEDO

QUESTÃO 5

D1

OBSERVE A MESA DE DOCES DE MILENA.



QUANTOS DOCES ESTÃO ORGANIZADOS NO PORTA DOCES?

- A 10
- B 09
- C 08
- D 07

QUESTÃO 6**D19**

OBSERVE A FIGURA.



ESSA FIGURA É UM

- A QUADRADO
- B TRIÂNGULO
- C RETÂNGULO
- D CÍRCULO

QUESTÃO 7**D28**

DOS BRINQUEDOS ABAIXO CAMILA COMPROU A BONECA, PAGOU E NÃO RECEBEU TROCO.




50 reais



100 reais



20 reais



10 reais

COM QUAL CÉDULA CAMILA PAGOU?

A



B



C




D



QUESTÃO 8**D17**

OBSERVE O DESENHO ABAIXO. O MESMO REPRESENTA A SALA DE AULA DA PROFESSORA MARIA.




NESSA SALA, QUEM ESTÁ SENTADO DO LADO ESQUERDO DO FELIPE?

- A JOÃO
- B PAULO
- C HEITOR
- D LARA

QUESTÃO 9**D6**

NO JARDIM DE JULIANA TEM 20 FLORES.




QUANTAS DEZENAS DE FLORES JULIANA PODE FORMAR?

- A 2 DEZENAS
- B 1 DEZENA
- C 3 DEZENAS
- D 4 DEZENAS

QUESTÃO 10**D18**

LARA GANHOU UM PRESENTE QUE VEIO EM UMA CAIXA,
VEJA ABAIXO.



ESSA CAIXA TEM FORMATO DE

- A PIRÂMIDE
- B PARALELEPIPEDO
- C CUBO
- D ESFERA

QUESTÃO 11**D3**

OBSERVE O NÚMERO DAS CASAS ABAIXO.

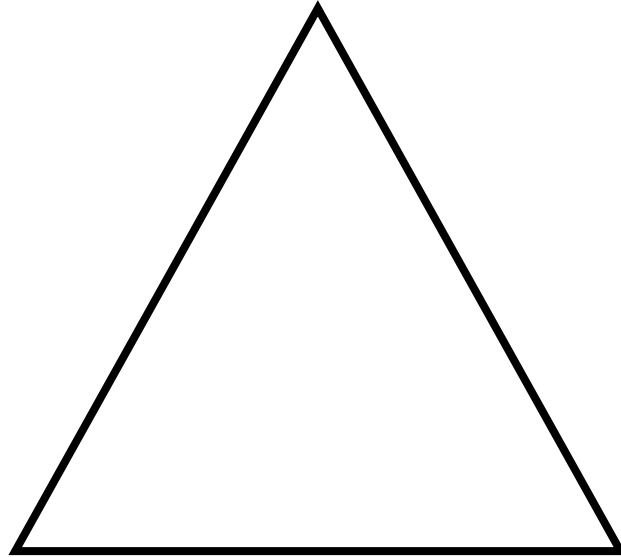


QUAL DESSES NÚMEROS É O MAIOR?

- A 25
- B 32
- C 40
- D 49

QUESTÃO 12**D19**

OBSERVE A FIGURA.



ESSA FIGURA É UM

- A CÍRCULO
- B QUADRADO
- C TRIÂNGULO
- D RETÂNGULO

QUESTÃO 13**D7**

OBSERVE O NÚMERO ABAIXO.

28

A DECOMPOSIÇÃO DESSE NÚMERO É

A $2+8$

B $8+2$

C $20+8$

D $80+2$

QUESTÃO 14**D4**

OBSERVE A SEQUÊNCIA DOS NÚMEROS.

12	13		15		17		19	20	21
----	----	--	----	--	----	--	----	----	----

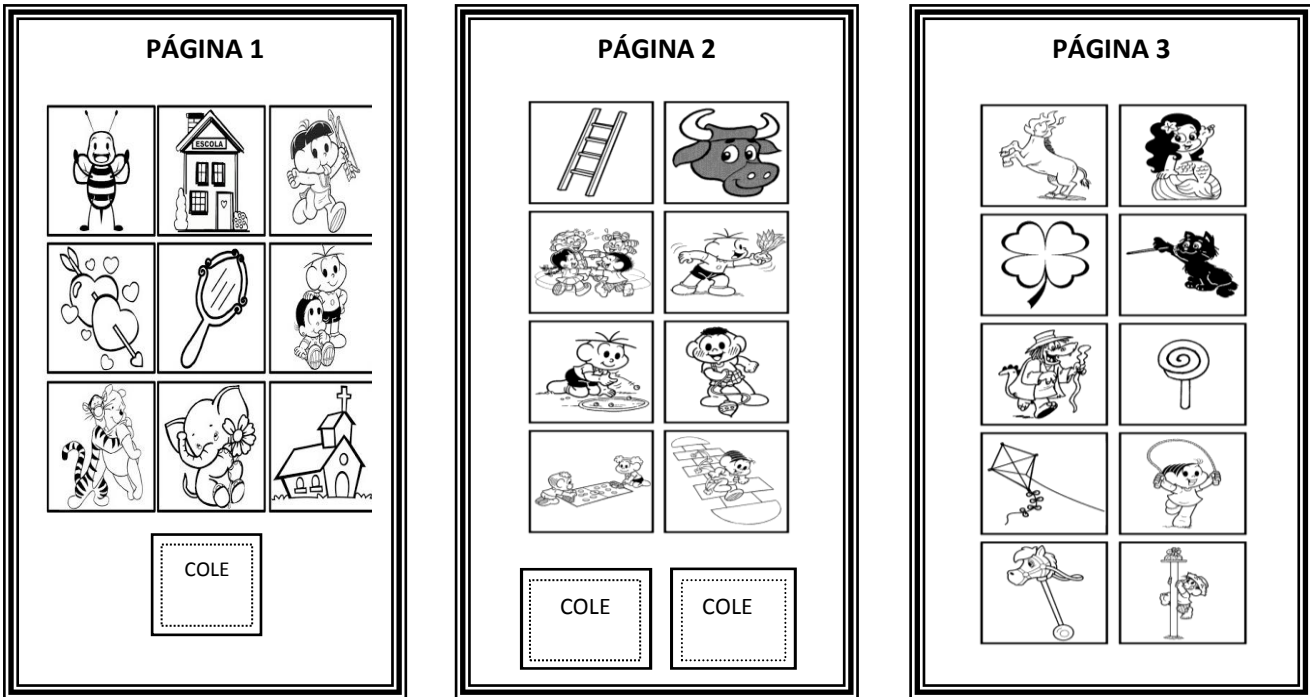
OS NÚMEROS QUE COMPLETAM A SEQUÊNCIA SÃO

 A 51, 16, 11 B 36, 31, 18 C 26, 23, 16 D 14, 16, 18

QUESTÃO 15

D6

O ÁLBUM DE DAVI ESTÁ COM ALGUMAS PÁGINAS INCOMPLETAS OBSERVE ABAIXO.




QUE PÁGINA ESTÁ COMPLETA COM 1 DEZENA DE FIGURINHAS?

- A PÁGINA 1
- B PÁGINA 2
- C PÁGINA 3
- D PÁGINA 4

QUESTÃO 16

D17

OBSERVE A IMAGEM DA GARAGEM.



QUAL OBJETO ESTÁ NA FRENTE DO CARRO?

- A SERROTE
- B VASSOURA
- C PNEU
- D PÁ

QUESTÃO 17**D19**

OBSERVE A FIGURA.



ESSA FIGURA É UM

- A CÍRCULO
- B QUADRADO
- C TRIÂNGULO
- D RETÂNGULO

QUESTÃO 18**D18**

OBSERVE A FIGURA.




QUAL O NOME DESSA FIGURA?

- A CUBO
- B ESFERA
- C PIRÂMIDE
- D PARALELEPIPEDO

QUESTÃO 19**D10**

ADRIANA ADORA URSINHOS DE PELÚCIA, ELA GANHOU 5 URSINHOS DE SUA MÃE E 6 URSINHOS DE SEU PAI.




QUANTOS URSINHOS ADRIANA TEM AO TODO?

- A 10
- B 11
- C 12
- D 15

QUESTÃO 20**D7**

OBSERVE O NÚMERO ABAIXO.

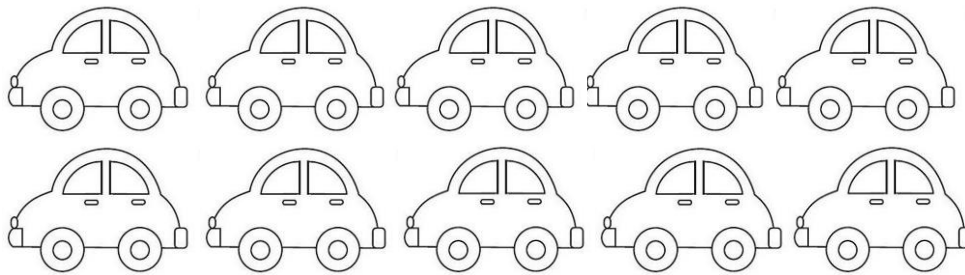


A DECOMPOSIÇÃO DESSE NÚMERO É

- A 4+5
- B 5+4
- C 40+5
- D 50+4

QUESTÃO 21**D10**

GABRIEL TEM 10 CARRINHOS EM SUA COLEÇÃO. ELE DEU 3 CARRINHOS PARA SEU PRIMO MIGUEL.



COM QUANTOS CARRINHOS GABRIEL FICOU?

- A 10
- B 9
- C 8
- D 7