

SIMULADO DE MATEMÁTICA – 3º ANO – 2019.1

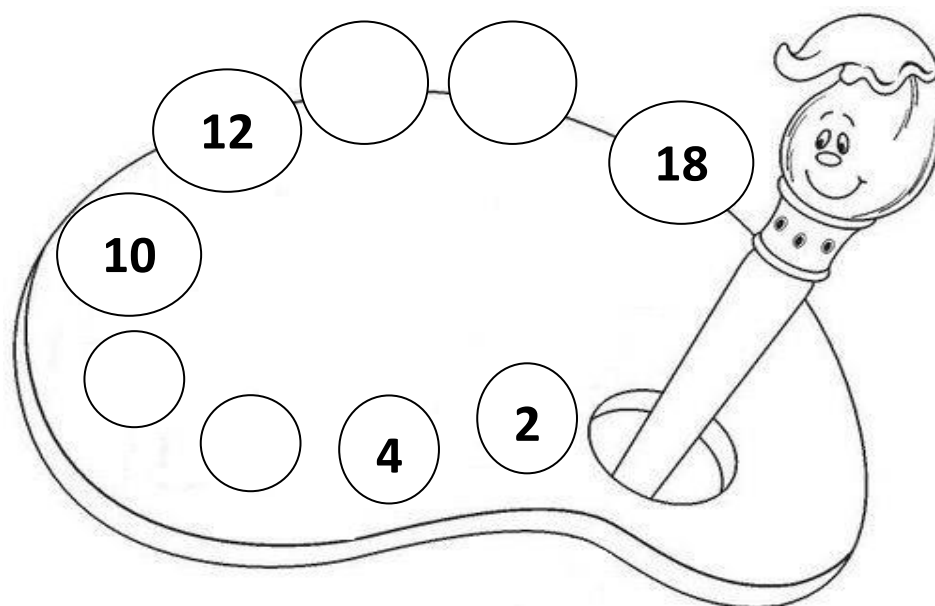
Baseado na Matriz de Referência do MAISPAIC

ESCOLA: _____
DATA: ___/___/___
NOME DO(A) ALUNO(A): _____
TURMA: _____ TURNO: () MANHÃ () TARDE

QUESTÃO 1

D4

Observe a sequência numérica abaixo.



Quais números completam a sequência?

- A 4, 6, 8, 10
- B 6, 8, 10, 12
- C 6, 8, 14, 16
- D 12, 14, 16, 18

QUESTÃO 2**D7**

Paulinha mora na Rua das Flores, número 3.695. O número da casa de Paulinha decomposto é

A $3.000 + 600 + 90 + 5$

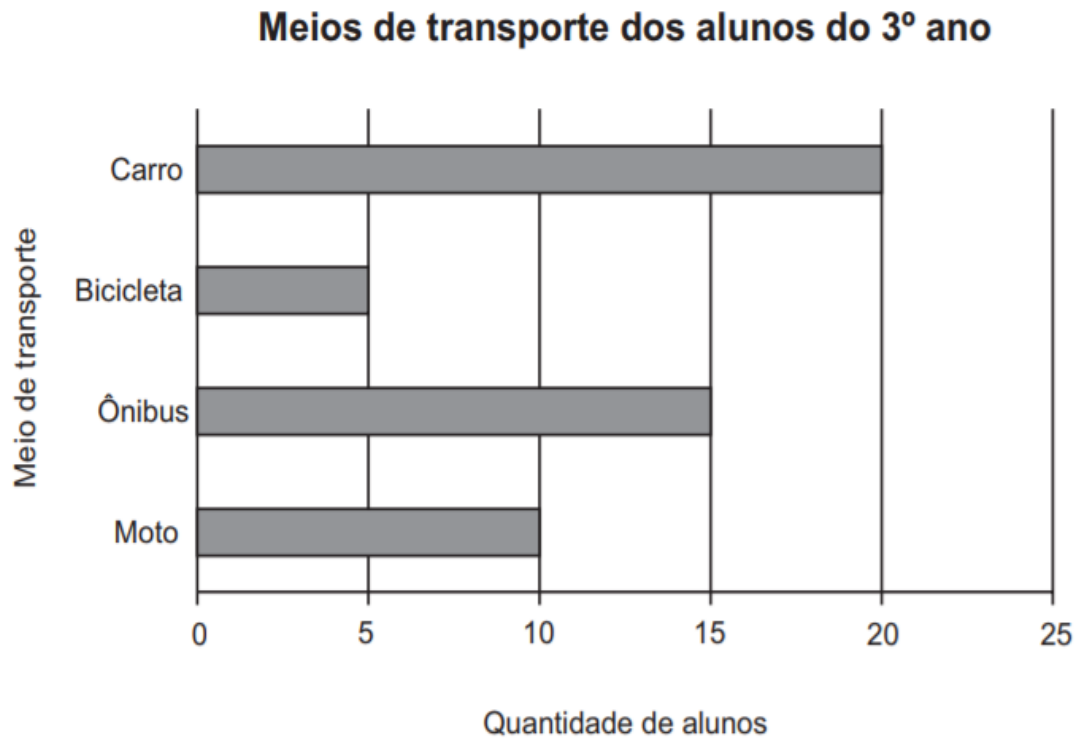
B $3.000 + 60 + 9 + 5$

C $300 + 60 + 9 + 5$

D $300 + 60 + 9 + 5$

QUESTÃO 3**D31**

O gráfico abaixo apresenta o resultado de uma pesquisa feita com alunos do 3º Ano para saber qual meio de transporte eles utilizam para ir à escola.



De acordo com esse gráfico, quantos alunos utilizam ônibus para ir à escola?

- A 20
- B 15
- C 10
- D 5

QUESTÃO 4**D3**

Observe a sequência numérica no quadro abaixo. Ela começa no 505 e termina no 525.

$$505 - 510 - \underline{\quad} - 520 - 525$$

Qual é o número que completa essa sequência?

- A 526
- B 515
- C 511
- D 500

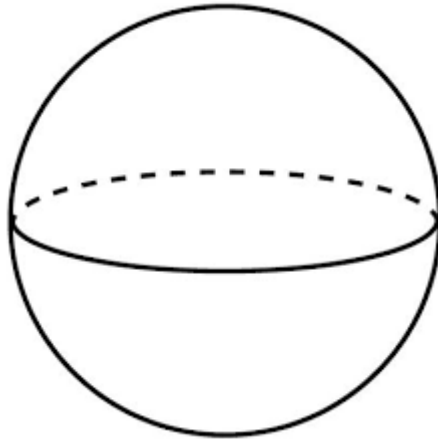
QUESTÃO 5**D5**

Em sua tarefa de Matemática do 3º Ano, Laura tem que escrever por extenso o número 947. Vamos ajudar Laura mostrando como se escreve o número?

- A Seiscentos e quarenta e sete.
- B Setecentos e quarenta e sete
- C Oitocentos e quarenta e sete
- D Novecentos e quarenta e sete

QUESTÃO 6**D18**

Observe a figura.



Qual o nome dessa figura?

- A Cubo
- B Esfera
- C Pirâmide
- D Paralelepípedo

QUESTÃO 7**D28**

Observe a cédula abaixo.



Quais as cédulas que também possuem o mesmo valor?

A



B



C



D



QUESTÃO 8**D30**

Observe a tabela dos alimentos com os preços de cada um.

PRODUTO	VALOR
LOURO	5,00
MAIONESE	8,00
CURRY	5,00
VINAGRE	3,00
OLEO	4,50
AZEITE	9,00
MOSTARDA	3,00
SAL	1,98
MACARRÃO INST.	2,99
CRAVO DA INDIA	2,90
CATCHUP	2,90
OREGANO	2,00
SARDINHA	3,98
ATUM	8,00
ERVILHA	3,00

Marque um x na resposta do nome do alimento que tem o menor preço.

- A Vinagre
- B Cravo da Índia
- C Orégano
- D Sal

QUESTÃO 9**D6**

Observe o número abaixo.


345

Como se lê esse número?

- A Trezentos e quarenta
- B Trezentos e quarenta e cinco
- C Trezentos e quarenta e seis
- D Trezentos e cinquenta

QUESTÃO 10**D6**

Observe o conjunto abaixo.



O que representa esse conjunto?

- A Uma unidade
- B Uma dezena
- C Uma dúzia
- D Uma centena

QUESTÃO 11**D7**

Observe os números no quadro abaixo.


$$27 - 73 - 29 - 91$$

A ordem decrescente desses números é

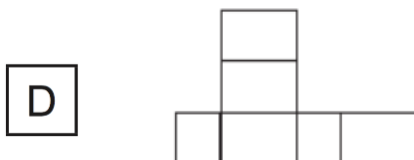
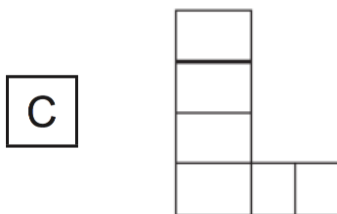
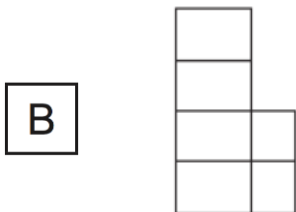
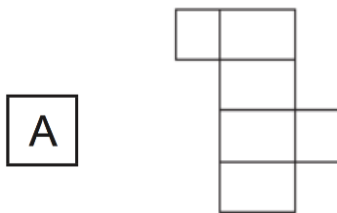
- A $91 - 73 - 29 - 27$
- B $91 - 29 - 73 - 27$
- C $29 - 91 - 73 - 27$
- D $27 - 29 - 73 - 91$

QUESTÃO 12**D20**

Observe o sólido geométrico abaixo.

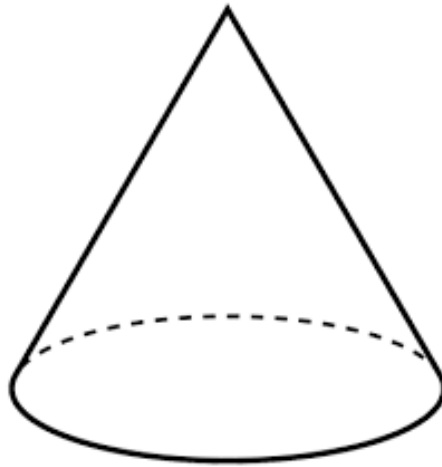


Qual é a planificação desse sólido?



QUESTÃO 13**D18**

Observe a figura.



Qual o nome dessa figura?

- A Cubo
- B Esfera
- C Pirâmide
- D Cone

QUESTÃO 14**D29**

Júlia comprou um caderno no valor de R\$ 14,00. Ela pagou essa compra com uma nota de R\$ 20,00. Quanto Júlia recebeu de troco nessa compra?

- A R\$ 6,00
- B R\$ 7,00
- C R\$ 14,00
- D R\$ 34,00

QUESTÃO 15**D29**

Aline tem 62 reais e quer comprar um par de tênis que custa 184 reais. Quantos reais faltam para Luana comprar esse par de tênis?

- A 122 reais.
- B 133 reais.
- C 146 reais.
- D 246 reais.

QUESTÃO 16**D5**

Observe o número abaixo.


1.534

Como se lê esse número?

- A Mil quinhentos e trinta.
- B Mil quinhentos e trinta e um.
- C Mil quinhentos e trinta e quatro.
- D Mil quinhentos e quarenta.

QUESTÃO 17**D17**

Observe a figura abaixo.




Qual criança está à esquerda de Lia?

- A Pedro
- B Davi
- C Bete
- D Tainá

QUESTÃO 18**D17**

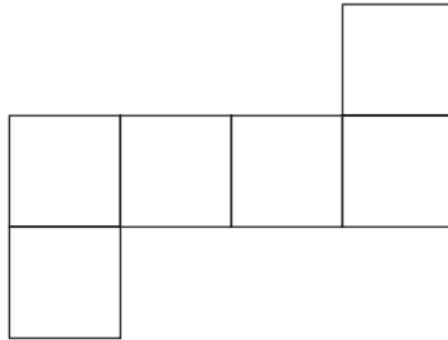
Observe a imagem abaixo e marque um x no quadrinho onde mostra a criança mais longe da professora.



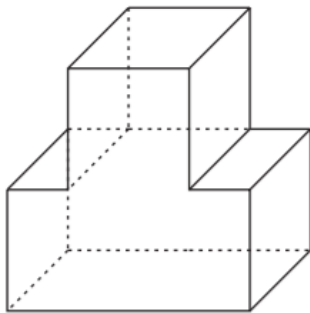

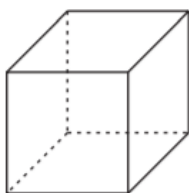
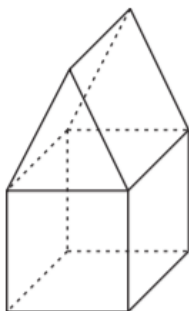
- A Lucy
- B Lucas
- C Karla
- D Yago

QUESTÃO 19**D20**

Observe o desenho abaixo.



Esse desenho corresponde à planificação de qual sólido geométrico?

A**B****C****D**

QUESTÃO 20

D28

Observe a cédula abaixo.



Quais cédulas abaixo possuem o mesmo valor da cédula acima?

A



B



C



D



QUESTÃO 21**D30**

Em um dia, Maria pesquisou os preços de alguns produtos em dois supermercados de seu bairro.

PRODUTO	MERCADO 1	MERCADO 2
ARROZ	R\$ 13,90	R\$ 14,50
FEIJÃO	R\$ 4,98	R\$ 5,95
AÇÚCAR	R\$ 9,98	R\$ 10,50
FARINHA	R\$ 6,80	R\$ 5,90

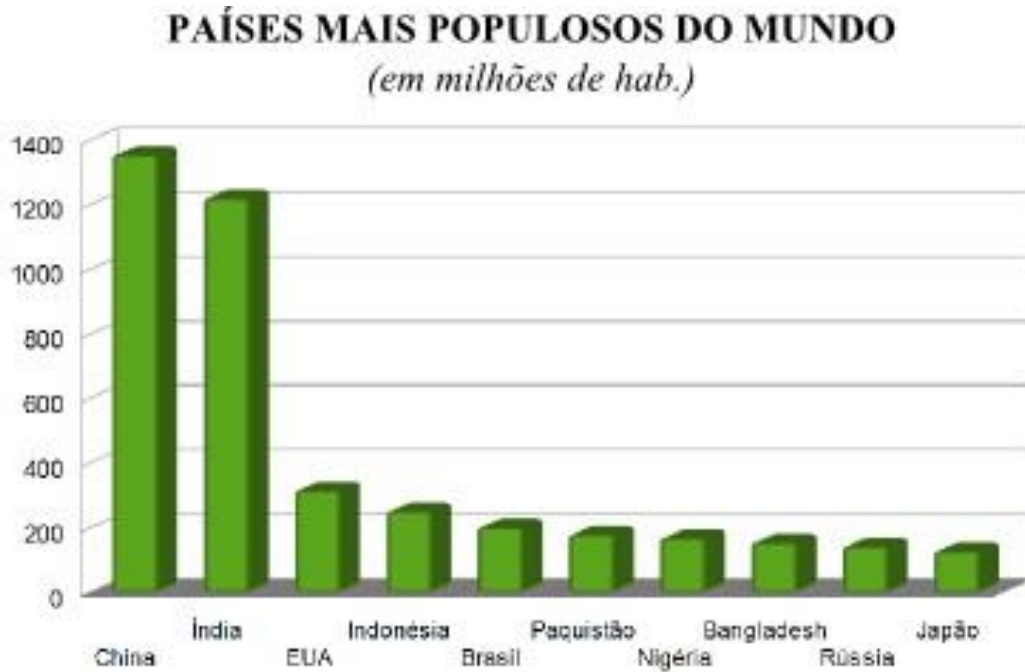
Nesse dia, ela comprou um pacote de açúcar no Mercado 1.

Quanto custou esse pacote de açúcar?

- A R\$ 5,95
- B R\$ 9,98
- C R\$ 10,50
- D R\$ 14,50

QUESTÃO 22**D31**

Observe o gráfico abaixo. Ele representa os países mais populosos do mundo.



Qual o segundo país mais populoso do mundo?

- A Brasil
- B China
- C Indonésia
- D Índia

