

Atividade Avaliativa de Geografia – 4º ANO

Observe o mapa e responda:



- 1 → O Brasil está dividido em:
- a) () 3 regiões c) () 2 mesorregiões
b) () 1 região metrópole d) () 5 regiões
- 2 → A Região de maior extensão territorial é:
- a) () Nordeste c) () Sul
b) () Norte d) () Sudeste
- 3 → O Estado em que você mora fica na região:
- a) () Norte c) () Sudeste
b) () Sul d) () Centro - oeste

Observe o mapa da América do Sul e responda:



- 4 → De acordo com o mapa o Brasil não faz limites com:
- a) () Bolívia c) () Argentina
b) () Chile d) () Venezuela
- 5 → Ao observar o mapa da América do Sul o Brasil está banhado pelo oceano:
- a) () Índico c) () Pacífico
b) () Glacial d) () Atlântico
- 6 → O Oceano Pacífico banha o litoral de qual país:
- a) () Suriname c) () Chile
b) () Brasil d) () Venezuela


Leia o Texto

O relevo é definido como a forma da superfície terrestre, podendo ser classificado de acordo com a variação de nível. Entre os fatores responsáveis por dar forma (modelar) ao relevo estão os vulcões, terremotos, clima, chuvas, geleiras, ventos, a ação do homem, entre outros.

Esse aspecto físico é de fundamental importância para a realização das atividades humanas, sendo determinante na construção de fábricas, rodovias, residências, etc. É possível encontrar diferentes formas de relevo pelo mundo. Sendo assim, podemos destacar quatro tipos de relevo: planície, montanha, depressão e planalto.

De acordo com o texto e com o conteúdo estudado

7. A figura abaixo é:

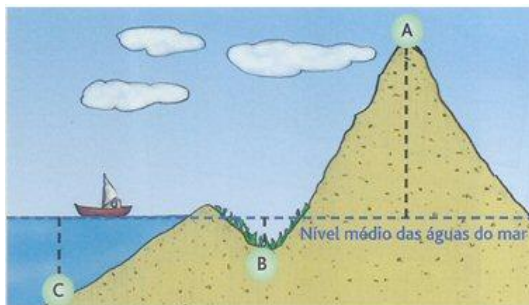


- a) () Planalto
- b) () Planície
- c) () Montanha
- d) () Depressão

8. São fatores responsáveis pela modelação do relevo:

- a) () Planície e Planalto
- b) () Ação da natureza e Ação do homem
- c) () Litosfera e Altitude
- d) () Montanha e Depressão

Observe a figura



9. Observe a linha tracejada que indica o nível do mar. A letra **A** está:

- a) () acima do nível do mar
- b) () abaixo do nível do mar

10. A figura acima mostra o nível do mar. Nesse sentido, à distância acima do nível do mar recebe o nome de:

- a) () Longitude
- b) () Altitude
- c) () Magnitude
- d) () Plenitude

Boa Atividade!

Escola Municipal de Ensino Fundamental Centro Comunitário

Diretora: Fátima Coordenadora: Andrea Costa Professor: André Moraes

Aluno: _____

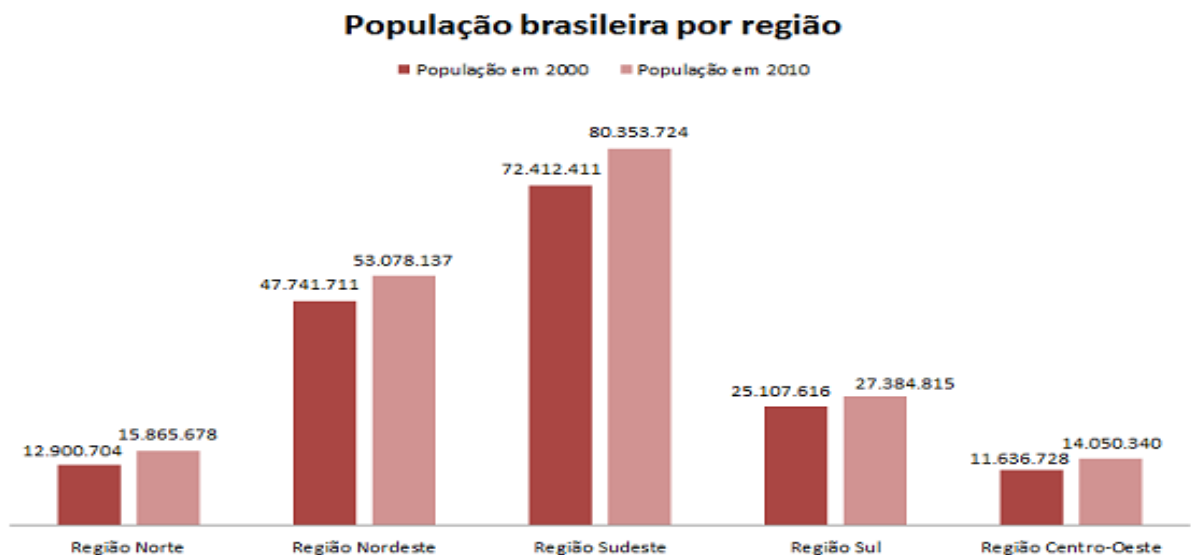
Atividade Avaliativa de Geografia – 5º ANO

Observe o mapa e responda:



- 1 → O Brasil esta dividido em:
 - a) () Estados, Regiões e Municípios
 - b) () Somente em Estados
 - c) () Somente em Regiões
 - d) () Regiões Metropolitanas
- 2 → Quem administra os Estados e Municípios são:
 - a) () Presidente e o povo.
 - b) () Governadores e os escravizados
 - c) () Governadores e Prefeitos
 - d) () Presidente, Governadores e Prefeitos
- 3 → O Estado em que você mora fica na região:
 - a) () Norte
 - b) () Nordeste
 - c) () Sul
 - d) () Centro - Oeste

Observe a tabela abaixo e responda:



Observando o gráfico acima responda:

- 4 → Em que Região brasileira há mais habitantes.
 - a) () Norte
 - b) () Nordeste
 - c) () Sudeste
 - d) () Sul
- 5 → Quantos habitantes há na região em que você mora:
 - a) () 15.865.678
 - b) () 53.078.137
 - c) () 14.050.340
 - d) () 80.353.724

Observe o mapa



6 → Quantos Estados há na região em que você mora:

- a) () 7 c) () 3
b) () 9 d) () 4

7 → Os Estados do Paraná, Santa Catarina e Rio Grande do Sul ficam na Região:

- a) () 1 c) () 4
b) () 3 d) () 5

Leia o texto.

Antes da atual divisão territorial do Brasil, o nosso País passou por outra divisão de terras chamadas Capitânicas Hereditárias. As Capitânicas hereditárias foram um sistema de administração territorial criado pelo rei de Portugal, D. João III, em 1534. Este sistema consistia em dividir o território brasileiro em grandes faixas e entregar a administração para particulares. Este sistema foi criado pelo rei de Portugal com o objetivo de colonizar o Brasil. Ganharam o nome de Capitânicas Hereditárias, pois eram transmitidas de pai para filho (de forma hereditária).



8 → Na colonização o Brasil foi dividido em várias faixas de terras chamadas:

- a) () Donatários
b) () Unidades Federativas
c) () Capitânicas Hereditárias
d) () Tordesilhas

9 → As Capitânicas Hereditárias foram um sistema de administração criada em:

- a) () 1888 c) () 1534
b) () 1500 d) () 1920

As pessoas que recebiam a concessão de uma capitania hereditária eram conhecidas como donatários. Tinham como missão colonizar, proteger e administrar o território. Por outro lado, tinham o direito de explorar os recursos naturais (madeira, animais, minérios). O sistema não funcionou muito bem. Apenas as capitânicas de São Vicente e Pernambuco deram certo. Podemos citar como motivos do fracasso: a grande extensão territorial para administrar (e suas obrigações), falta de recursos econômicos e os constantes ataques indígenas.

10 → As Capitânicas Hereditárias foram um sistema de administração. Quem administrava as faixas de terra tinha o direito de explorar os recursos naturais (madeira, animais, minérios) e quem recebia a concessão de administra-las eram os:

- a) () Prontuários c) () Os escravos
b) () Donatários d) () Os brasileiros

Preencha o Gabarito conforme as respostas de sua atividade. Ano: _____				
Questão	A	B	C	D
1				
2				
3				
4				
5				
6				
7				
8				
9				
10				

Preencha o Gabarito conforme as respostas de sua atividade. Ano: _____				
Questão	A	B	C	D
1				
2				
3				
4				
5				
6				
7				
8				
9				
10				

Preencha o Gabarito conforme as respostas de sua atividade. Ano: _____				
Questão	A	B	C	D
1				
2				
3				
4				
5				
6				
7				
8				
9				
10				

Preencha o Gabarito conforme as respostas de sua atividade. Ano: _____				
Questão	A	B	C	D
1				
2				
3				
4				
5				
6				
7				
8				
9				
10				

Preencha o Gabarito conforme as respostas de sua atividade. Ano: _____				
Questão	A	B	C	D
1				
2				
3				
4				
5				
6				
7				
8				
9				
10				

Preencha o Gabarito conforme as respostas de sua atividade. Ano: _____				
Questão	A	B	C	D
1				
2				
3				
4				
5				
6				
7				
8				
9				
10				