

Sugestões de avaliação

Geografia
6º ano – Unidade 3



Nome: _____ Data: _____

1. Sobre as características dos continentes, marque V nas alternativas verdadeiras e F nas falsas.

- a) A América é o continente mais extenso no sentido norte-sul e também é o segundo maior continente do planeta em área territorial. ()
- b) A Ásia é o continente que possui o maior número de países. Alguns deles apresentam os maiores índices de miséria do mundo, com problemas de fome e doenças atingindo a maior parte da população. ()
- c) A Europa é um continente de grande importância na história mundial porque, a partir do século XV, os europeus colonizaram a América, a África e parte da Ásia. ()
- d) A África tem a maior área territorial do mundo e concentra quase metade da população da Terra; no sul e no sudeste do continente existem grandes florestas. ()
- e) A Oceania é formada por seis grandes ilhas, sendo que em duas delas estão localizados os dois países mais importantes do continente: Austrália e Papua Nova Guiné. ()
- f) A Antártida está localizada na região mais fria do mundo. Sobre esse continente há uma enorme camada de gelo, que concentra o equivalente a 70% da água doce do mundo. ()

2. Identifique o continente descrito em cada item a seguir.

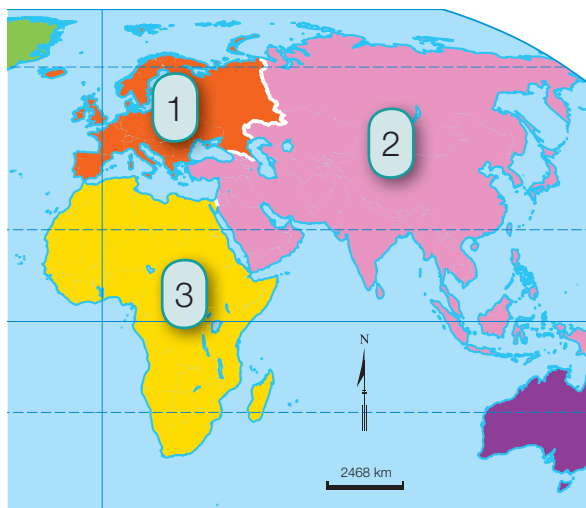
- a) Possui os dois países mais populosos do mundo. _____
- b) É formado por sete países, dois dos quais desenvolvidos. _____
- c) É despovoado e nele vivem alguns cientistas. _____
- d) Apresenta a segunda maior área continental do planeta. Apenas dois dos países localizados nele são desenvolvidos. _____
- e) Possui grande variedade de paisagens naturais e o maior deserto do planeta, o deserto do Saara. _____
- f) A maioria dos países que o compõem tem grande desenvolvimento econômico e a maior parte da população tem boa qualidade de vida. _____

3. Complete as lacunas das frases sobre o continente americano.

- a) A América é um continente de grande extensão no sentido _____.
- b) Em área territorial, a América ocupa a _____ posição no mundo, mas sob o aspecto demográfico, dois continentes têm população mais numerosa. São eles a _____ e a _____.
- c) Os países do continente americano são marcados por enormes diferenças econômicas e sociais. Há países, como os _____ e o _____, que apresentam grande desenvolvimento econômico. Mas há países como o _____ e a _____ que são marcados por grande pobreza.
- d) No continente americano há países que, apesar de apresentarem desigualdades sociais, possuem grande parque industrial e produção agropecuária diversificada. São eles: _____, _____, _____ e _____.

4. Observe o mapa e complete o quadro apresentando uma característica de cada continente numerado.

Os continentes



Fonte: elaborado com base em *Atlas geográfico escolar*. 3. ed. Rio de Janeiro: IBGE, 2006. p. 34.

	Continente	Características
1	<hr/>	<hr/> <hr/> <hr/> <hr/>
2	<hr/>	<hr/> <hr/> <hr/> <hr/>
3	<hr/>	<hr/> <hr/> <hr/> <hr/>

5. Sobre as ilhas, responda:

a) Qual a diferença entre ilha continental e oceânica?

b) O Brasil apresenta exemplos de ilhas continentais? Justifique.

c) Quais são as ilhas oceânicas brasileiras?

6. Observe o mapa que destaca o arquipélago da Nova Zelândia e responda às questões.

Nova Zelândia: Político



CÓPIA AUTORIZADA.

Fonte: elaborado com base em *Atlas geográfico escolar*. 3. ed. Rio de Janeiro: IBGE, 2006. p. 53.

a) O que é um arquipélago?

b) As ilhas que compõem a Nova Zelândia são continentais ou oceânicas? Justifique.

7. Observe a imagem de um atol localizado no Oceano Pacífico. Explique como ocorre a formação dessa estrutura geológica.

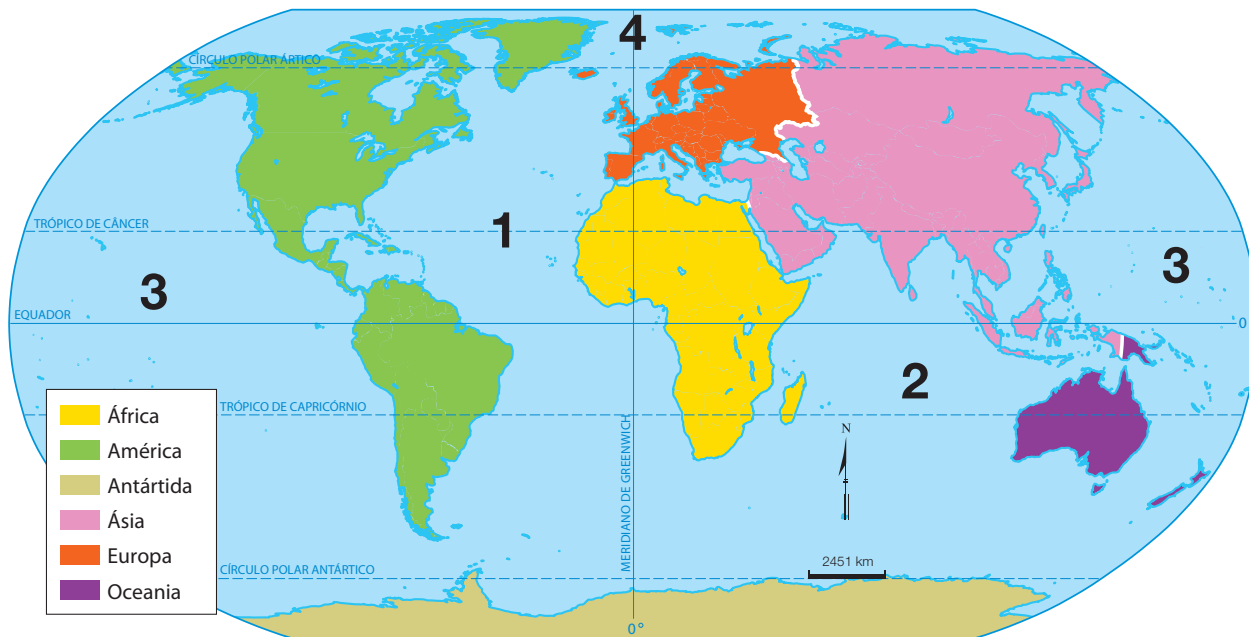


Atol na Polinésia (2008)

8. Sobre as ilhas vulcânicas, marque **V** nas alternativas verdadeiras e **F** nas falsas.
- a) As ilhas vulcânicas são formadas por vulcões que emergem do fundo dos oceanos. ()
 - b) Na formação de uma ilha vulcânica é muito importante a presença de corais e outros pequenos seres microscópicos. ()
 - c) Os vulcões submarinos entram em erupção e as lavas vão se acumulando até chegar à superfície, formando uma ilha de origem vulcânica. ()
 - d) No Brasil, o arquipélago de Abrolhos tem origem vulcânica. ()

9. Analise o mapa a seguir e complete o quadro.

Os seis continentes



Fonte: elaborado com base em *Atlas geográfico escolar*. 3. ed. Rio de Janeiro: IBGE, 2006. p. 34.

	Oceano	Continentes banhados
1		
2		
3		
4		

10. Marque **V** nas alternativas verdadeiras e **F** nas falsas. Corrija as frases incorretas.

- Os mares são massas de água salgada que se localizam próximas aos continentes ou no interior destes. ()
- A profundidade e a temperatura de mares e oceanos são semelhantes em todas as regiões do mundo. ()
- Os mares apresentam diferentes aspectos. Alguns deles são chamados de abertos ou costeiros, porque se comunicam com o oceano por largas passagens. ()

- d) O mar isolado é aquele que possui apenas uma pequena comunicação com o oceano ou outro mar, como o Mar da China. ()
- e) O Mar do Norte é um exemplo de mar aberto e o Mar Mediterrâneo é um exemplo de mar interior. ()

11. Leia o texto a seguir e faça o que se pede.

O Mar Mediterrâneo é o mais poluído do mundo, segundo vários relatórios feitos por organizações ecológicas nos últimos anos.

Em suas águas é tão fácil ver resíduos plásticos quanto restos de hidrocarbonetos, procedentes principalmente de terra firme.

As associações ecológicas alertam para os prejuízos dessa poluição, que pode ter repercussões na saúde humana. As áreas do Mediterrâneo com mais resíduos coincidem com os grandes portos. (...)

Quem se banhar hoje em dia numa praia mediterrânea tem grande probabilidade de encontrar lixo na água.

Disponível em: <www.jornaldaciencia.org.br/Detail.jsp?id=49015>. Acesso em: 26 mar. 2012.

Glossário

hidrocarbonetos: compostos químicos.

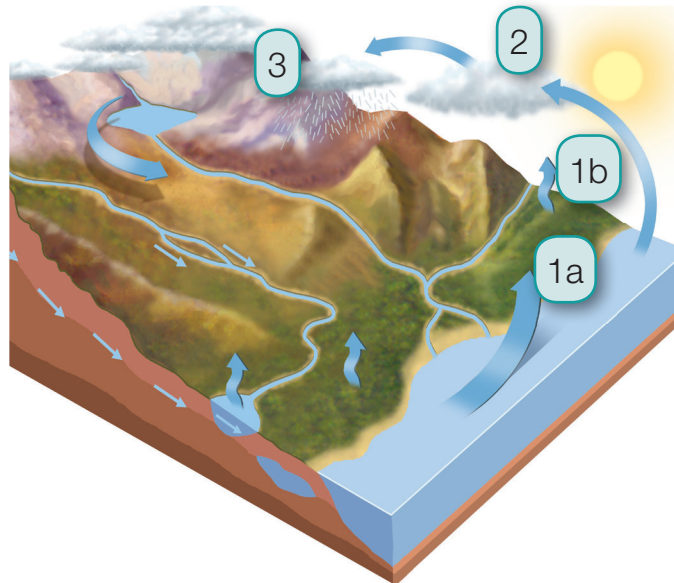
- a) Elabore um título para o texto.

b) Onde se localiza o Mar Mediterrâneo?

c) Quais são as consequências da forte poluição do Mar Mediterrâneo?

12. Analise a figura que representa o ciclo da água e responda às questões.

O ciclo da água



CÓPIA AUTORIZADA.

Fonte: *Como cuidar da nossa água*. São Paulo: BEI, 2003. p. 54-55.

a) Identifique os processos:

1a: _____

2: _____

1b: _____

3: _____

b) No ciclo da água, o que ocorre com as águas da chuva?

13. Complete as lacunas.

a) No território brasileiro, os rios apresentam duas principais origens:

_____ e _____.

b) Os rios são importantes para os seres humanos pois fornecem _____ e

_____, possibilitam a geração de _____,

a _____, a _____ de áreas agrícolas e podem

servir para o lazer.

c) O Rio Amazonas é originado do derretimento do gelo dos _____.

d) A variação do volume das águas de um rio no período de um ano é chamada de

_____.

e) Em seu percurso, um rio principal recebe as águas de outros rios chamados

_____.

f) Os rios existentes em um espaço geográfico formam uma _____,

e a área drenada por um rio principal e seus afluentes é chamada de

_____.

14. Leia o texto com atenção e responda às questões:

Estudiosos preveem que em breve a água será causa principal de conflitos entre nações. Há sinais dessa tensão em áreas do planeta como Oriente Médio e África. Mas também os brasileiros, que sempre se consideraram dotados de fontes inesgotáveis, veem algumas de suas cidades sofrerem falta de água. A distribuição desigual é causa maior de problemas. Entre os países, o Brasil é privilegiado com 12% da água doce superficial do mundo.

Disponível em: <www.socioambiental.org/esp/agua/pgn>. Acesso em: 25 fev. 2012.

- a) É possível afirmar que a água é mal distribuída pela superfície terrestre? Retire do texto uma justificativa para sua resposta.

- b) Qual é a situação do Brasil em relação à água?

- c) Em sua opinião, a água é bem distribuída no Brasil? Justifique sua resposta.

15. A água subterrânea pode ser encontrada de duas formas: no lençol freático e no lençol artesiano. Descreva as características desses dois tipos de lençóis.
