

ESCOLA ESTADUAL _____


AVALIAÇÃO DIAGNÓSTICA 2013 – MATEMÁTICA - 3º ANO DO ENSINO FUNDAMENTAL.

ALUNO _____

PROFESSORA _____ DATA _____

QUESTÃO 01

Veja a fila de crianças. Faça um X no quadradinho que mostra o número de crianças que está na fila.



- (A) 4
- (B) 5
- (C) 6
- (D) 7


QUESTÃO 02

Pedro tem vinte e cinco figurinhas coladas em seu álbum.
Faça um X no quadradinho que mostra o número de figurinhas do álbum de Pedro.

- (A) 502
- (B) 205
- (C) 52
- (D) 25

QUESTÃO 03

Veja os animais que vovó tem no sítio.



Agora faça um X no quadradinho que indica o animal que a vovó mais tem no sítio.




a) ()



b) ()



c) ()




d) ()

QUESTÃO 04

Veja a brincadeira de Ana.

Faça um X no quadradinho do número em que Ana está na brincadeira.



(A) 1

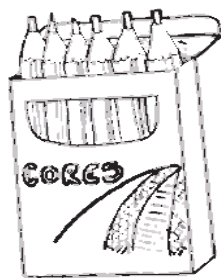
(B) 5

(C) 6

(D) 7

QUESTÃO 05

Ana tem seis lápis de cor. Ela vai dar dois para sua amiga Aline.



Faça um **X** no quadradinho do número de lápis que ainda ficarão com Ana.

- (A) 2
(B) 4
(C) 6
(D) 8

QUESTÃO 06

Zeca tem doze figurinhas. Paulo tem nove figurinhas.

Faça um **X** no quadradinho que indica quantas figurinhas Paulo precisa para ter a mesma quantidade que Zeca.

- a) () 3 b) () 6 c) () 9 d) () 12

QUESTÃO 07

Antônio plantou duas fileiras com 5 árvores em cada uma. Veja uma das fileiras plantadas por Antônio:



Faça um X no quadradinho que indica quantas árvores Antônio plantou no total das 2 fileiras.

- a) () 2 b) () 5 c) () 8 d) () 10

QUESTÃO 08

Lena tem 8 pães para serem divididos igualmente em 2 cestas.



Faça um X no quadradinho que mostra quantos pães ficarão em cada cesta.




- a) () 4 b) () 8 c) () 10 d) () 16

QUESTÃO 09

Veja o desenho de um boneco.

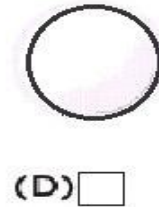
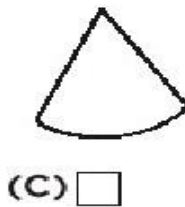
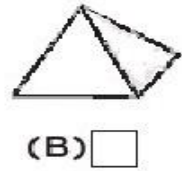
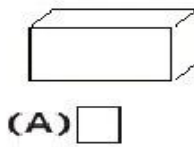


Faça um X no quadradinho da figura que tenha a forma do chapéu do boneco.





QUESTÃO 10

Faça um X no quadradinho da figura geométrica que tem a forma da bola de futebol.





Questão 11

Veja os animais:



Faça um X na opção que indica o animal mais alto:



a) ()

b) ()

c) ()

d) ()

QUESTÃO 12

Faça um X no quadradinho que representa o conjunto de moedas que tem o mesmo valor de um real.

- (A) 
- (B) 
- (C) 
- (D) 

QUESTÃO 13

Renata viajou por uma semana no mês de férias.




Faça um X no quadradinho que representa o número de dias que Renata viajou.

- a) () 5 b) () 6 c) () 7 d) () 8

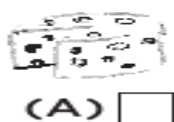
QUESTÃO 14

Veja os preços dos produtos que mamãe comprou no supermercado.

Preços do Mercado


Produto	Preço em reais
	9 reais
	5 reais
	4 reais
	6 reais

Agora faça um X no quadradinho que indica o produto que custou 5 reais.



QUESTÃO 15

Veja o gráfico.



Agora faça um X no quadradinho que mostra a criança que tem a maior coleção.



QUESTÃO 16

Leia texto abaixo.

VITAMINA DE BANANA

- 6 bananas
- 1 litro de leite.
- 2 copos de água
- 8 colheres (sopa) de açúcar.

MODO DE PREPARO

Em um liquidificador, junte as bananas e o leite.

Despeje a água e o açúcar.

Bata até a mistura ficar homogênea. Sirva.

Qual é a quantidade de bananas necessárias para fazer a vitamina?

- a) () 8
- b) () 6
- c) () 2
- d) () 1